

الجمهورية التونسية وزارة التربية	امتحان البكالوريا دورة 2022	الدورة الرئيسية
	الاختبار: التاريخ والجغرافيا	الشعبة: الآداب
	الحصة: 3 س	ضارب الاختبار: 3

رقم التسجيل



على المترشح أن يستعمل في تحريره ورقتين منفصلتين إحداهما خاصة بالتاريخ والأخرى خاصة بالجغرافيا

التاريخ (20 نقطة)

يختار المترشح أحد الموضوعين التاليين

الموضوع الأول: مقال

- شهدت الحركة الوطنية التونسية إثر الحرب العالمية الثانية نُضجا واضحا تُوِّج سنة 1955 بالحصول على الحكم الذاتي الذي تباينت حوله مواقف وطنيين.
- أبرز مظاهر هذا النضج على مستوى المطالب وأشكال النضال.
 - بين تباين مواقف الوطنيين التونسيين من اتفاقيات الحكم الذاتي و تداعياته على الحركة الوطنية إلى نهاية 1955.

مقياس إسناد الأعداد: المعلومات: 14 نقطة / المنهجية: 4 نقاط / اللغة: نقطتان

الموضوع الثاني: مقال

- مثلت الأسباب الاقتصادية والعسكرية دافعا رئيسيا للتصادم بين الحلفين المتنازعين خلال الحرب العالمية الأولى التي خلفت انعكاسات وخيمة على دول الحلف الثلاثي.
- أبرز الأسباب الاقتصادية والعسكرية للتصادم بين الحلفين.
 - بين تأثيرات هذه الحرب على دول الحلف الثلاثي.

مقياس إسناد الأعداد: المعلومات: 14 نقطة / المنهجية: 4 نقاط / اللغة: نقطتان

الجغرافيا (20 نقطة)

يختار المترشح أحد الموضوعين التاليين

الموضوع الأول: دراسة وثائق

مكانة الشمال في الأدفاق التجارية العالمية

الوثيقة عدد1: حصّة الشمال وحصّة الجنوب من المبادلات التجارية العالمية سنة 2020

الخدمات		السلع		المؤشر	المجموعة
الحصّة من الواردات العالمية (%)	الحصّة من الصادرات العالمية (%)	الحصّة من الواردات العالمية (%)	الحصّة من الصادرات العالمية (%)		
65	72	58	54		الشمال
35	28	42	46		الجنوب

المصدر: مؤتمر الأمم المتحدة للتجارة والتنمية، 2021.

الوثيقة عدد2: حصّة بلدان الثالوث من الصادرات العالمية لبعض السلع والخدمات سنة 2020

الحصّة من صادرات الخدمات النقل (%)	الحصّة من صادرات الخدمات المالية (%)	الحصّة من صادرات المنتجات المعملية (%)	الحصّة من صادرات المنتجات الغذائية (%)	المؤشر	القوى التجارية
6.8	26.7	7.6	9.2		الولايات المتحدة الأمريكية
41.6	32.7	36.1	36.3		الاتحاد الأوروبي*
2.5	2.9	4.6	-		اليابان

* باعتبار المبادلات بين أقطار الاتحاد الأوروبي



المصدر: المنظمة العالمية للتجارة، 2021.

الوثيقة عدد3: منظّمة التجارة العالمية والشركات عبر القطرية

... يمثل إنشاء منظّمة التجارة العالمية تحوّلًا جوهريًا في طبيعة النظام التجاري الدولي، إذ تتساوى في إطارها حقوق الدول الأعضاء كافة، بغض النظر عن حجم الدولة وقدرتها الاقتصادية أو إسهامها في التجارة العالمية. وتعمل المنظّمة مع صندوق النقد الدولي والبنك العالمي على إقرار... السياسات الاقتصادية على الصعيد الدولي، وتحديد برامج الإصلاح الاقتصادي في الدول النامية.

... إلا أنّ الواقع العملي يؤكّد أنّ المنظّمة لم تكن سوى أداة أخرى من أدوات سيطرة الأقوياء... فثمة من يرى أنّ آثار تطبيق اتفاقيات منظّمة التجارة العالمية تعود في المقام الأول إلى تمكين الشركات عبر القطرية من السيطرة على الساحة التجارية الدولية لمصلحتها ومصلحة دولها على حساب البلدان النامية. وقد تبين أنّ الشركات عبر القطرية هي اللاعب الأساسي في الاقتصاد العالمي في ظلّ منظّمة التجارة العالمية، ولذا تُعدّ هذه الشركات الفاعل الرئيسي في التجارة الدولية.

المصدر: جمال مفتاح العماري، المجلة الإفريقية للعلوم السياسية، جوان 2019 (بتصرف).



المصدر: الرسّام بيار سامسون، موقع "صحافة الكلمة"، 2017.

أدرس الوثائق معتمدا الأسئلة التّالية*:

- 1- حدّد موضوع الوثائق.
- 2- عرّف: الأدفاق - صندوق التّقد الدولي.
- 3- حوّل المعطيات الواردة بالوثيقة عدد 2 المتعلّقة بالحصّة من صادرات المنتجات المعملية والحصّة من صادرات الخدمات المالية إلى رسم بياني في شكل أعمدة (هستغرام) على الورقة المصاحبة (الملحق عدد 1).
- 4- أبرز مكانة بلدان الشّمال في الأدفاق التّجارية العالمية.
- 5- بيّن دور الشّركات عبر القطرية والمنظمة العالمية للتّجارة في تدعيم هذه المكانة.

* تقع الإجابة عن كلّ سؤال على حدة، لا في شكل تحرير مستمر.

مقياس إسناد الأعداد: السؤال الأوّل: نقطة واحدة / السؤال الثاني: نقطتان / السؤال الثالث: 03 نقاط / السؤال الرابع: 04 نقاط /
السؤال الخامس: 04 نقاط / المنهجية: 04 نقاط / اللغة: نقطتان

الموضوع الثاني: دراسة إحصائيات

القوة الإنتاجية البرازيلية

الوثيقة عدد 1: مؤشرات حول بعض المنتجات بالبرازيل

المرتبة العالمية	الحصة من الإنتاج العالمي (%)	حجم الإنتاج	السنة	الوحدة	المنتج
2	14	10.1	2020	مليون طن	لحوم الأبقار
1	35.7	757.1	2020	مليون طن	قصب السكر
1	34.6	3.7	2020	مليون طن	قهوة
9	1.7	31	2020	مليون طن	فولاذ
9	2.6	2	2020	مليون وحدة	سيارات
8	3.8	159.2	2020	مليون طن	نفط
4	9.5	34	2019	مليون طن	بوكسيت*
2	16.5	405	2019	مليون طن	حديد

المصدر: إحصائيات منظمة الأغذية والزراعة 2021 ومصادر أخرى.

* مادة أولية لصناعة الألمنيوم

الوثيقة عدد 2: معطيات حول البرازيل سنة 2020

القيمة	الوحدة	المؤشر
8.5	مليون كم ²	المساحة
28.3	%	نسبة المساحة الصالحة للزراعة من المساحة الجمالية*
212.5	مليون ساكن	عدد السكان
8229	دولار	الناتج الداخلي الخام للفرد
87	%	نسبة التحضر
70	%	نسبة الفئة العمرية بين 15 و 64 سنة من مجموع السكان
9.1	%	نسبة صادرات صناعات التكنولوجيا العالية من مجموع الصادرات الصناعية
44.5	%	نسبة صادرات المواد الفلاحية من مجموع الصادرات

المصدر: إحصائيات البنك العالمي 2021 ومصادر أخرى.

* سنة 2018

أدرس الوثيقتين معتمدا الأسئلة التالية*:

- 1- حدّد موضوع الوثيقتين.
- 2- عرّف: منظمة الأغذية والزراعة - البنك العالمي.
- 3- حول المعطيات المتعلقة بحصة البرازيل من الإنتاج العالمي لقصب السكر والقهوة ولحوم الأبقار الواردة في الوثيقة عدد 1 إلى رسم بياني في شكل أعمدة (هستغرام) على الورقة المصاحبة (الملحق عدد 1).
- 4- أبرز مظاهر القوة الإنتاجية البرازيلية.
- 5- بيّن دعائمها.

*تقع الإجابة عن كلّ سؤال على حدة، لا في شكل تحرير مستمر.

مقياس إسناد الأعداد: السؤال الأول: نقطة واحدة/ السؤال الثاني: نقطتان/ السؤال الثالث: 03 نقاط/ السؤال الرابع: 04 نقاط/ السؤال الخامس: 04 نقاط/ المنهجية: 04 نقاط/ اللغة: نقطتان

إمضاء المراقبين


الشعبة: عدد الترسيم: السلسلة:

الاسم واللقب:

تاريخ الولادة ومكانها:



إمضاء المصححين	الملاحظة	العدد	
.....			



الجغرافيا - شعبة الآداب - الدورة الرئيسية (2022) - الملحق عدد 1 - (تراجع مع ورقة التصحيح)