

| | | |
|---|------------------------------|----------------------------------|
| RÉPUBLIQUE TUNISIENNE MINISTÈRE DE L'ÉDUCATION EXAMEN DU BACCALAURÉAT SESSION 2022 | Session de contrôle | |
| | Épreuve : Sciences physiques | Section : Sciences techniques |
| | Durée : 3h | Coefficient de l'épreuve : 3 |

Corrigé de l'épreuve

Chimie

Exercice 1

1) a- Les tubes réfrigérants pour éviter au maximum la perte de matière vers l'extérieur au cours du temps ; ils servent à conserver les quantités de matière.

b- On trempe le tube dans l'eau glacée pour bloquer au maximum la réaction d'estérification.

c- "indicateur coloré approprié" : sa zone de virage renferme le pH à l'équivalence.

$$2) a- \frac{n_{01}}{V_P} = \frac{N_1}{(V_1 + V_2)} = \frac{m_1}{M_1(V_1 + V_2)} = \frac{\rho_1 V_1}{M_1(V_1 + V_2)} = \frac{d_1 \rho_{\text{eau}} V_1}{M_1(V_1 + V_2)} \text{ d'ou } V_P = \frac{n_{01} \cdot (V_1 + V_2)}{d_1 \cdot \rho_{\text{eau}} \cdot V_1} \cdot M_1$$

(N_1 étant la qté de matière de l'acide dans le mélange initial) ; A.N : $V_P = 2 \text{ mL}$

b-

| | | | | | |
|---------------------|------------|--|----------------------------|-------|-------|
| Equation chimique : | | $\text{CH}_3 - \text{COOH} + \text{C}_2\text{H}_5 - \text{OH} \rightleftharpoons \text{CH}_3 - \text{COO} - \text{C}_2\text{H}_5 + \text{H}_2\text{O}$ | | | |
| Etat | Avancement | Quantité de matière (mol) | | | |
| Initial | 0 | $17,3 \cdot 10^{-3}$ | $17,3 \cdot 10^{-3}$ | 0 | 0 |
| Intermédiaire | x | $17,3 \cdot 10^{-3} - x$ | $17,3 \cdot 10^{-3} - x$ | x | x |
| Final | x_f | $17,3 \cdot 10^{-3} - x_f$ | $17,3 \cdot 10^{-3} - x_f$ | x_f | x_f |

c- A l'équivalence acido-basique : $n_{01} - x = C_B V_{BE}$ d'où $x = n_{01} - C_B V_{BE}$

3) a- $x_f = n_{01} - C_B (V_{BE})_f$; A.N : $x_f = 11,5 \cdot 10^{-3} \text{ mol}$

$x_f < (x_{\text{max}} = 17,3 \cdot 10^{-3} \text{ mol})$, la réaction est alors limitée.

$$b- K = \frac{x_f^2}{(17,3 \cdot 10^{-3} - x_f)^2} \text{ A.N : } K = 3,93 \approx 4$$

Exercice 2

1) - la galvanisation, réalisée par immersion de la pièce en acier dans un bain de zinc fondu ;
- l'électrozingage, opération au cours de laquelle du zinc est déposé par électrolyse.

2) Dans le procédé de zingage électrolytique, un revêtement de zinc est précipité sur la surface d'une pièce, soigneusement préparée, au moyen d'un courant direct. (en absence de courant direct il n'y a pas de réaction)

3) a- Le boulon à revêtir est le siège d'une réduction des ions Zn^{2+} donc il constitue la cathode.

b- Au niveau de l'anode : $\text{Zn}_{(\text{sd})} \rightarrow \text{Zn}^{2+} + 2e^-$

Au niveau de la cathode : $\text{Zn}^{2+} + 2e^- \rightarrow \text{Zn}_{(\text{sd})}$



c- La plaque de zinc s'amincit ($Zn_{(sd)} \rightarrow Zn^{2+} + 2e^-$) donc c'est une électrolyse à électrode soluble.

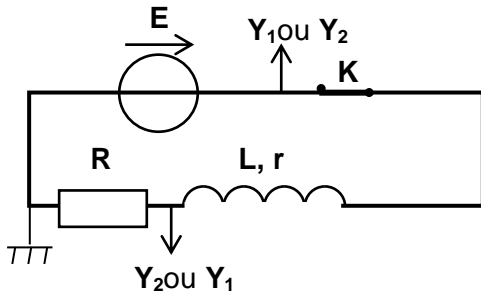
d- L'intérêt pratique de cette modification : recouvrement de tous les côtés et réduction de la durée de recouvrement.

Physique

Exercice 1

I-

1) a-



b- La courbe (C₁) présente un régime transitoire (pour dire l'opposition de la bobine à l'établissement du courant) puis un régime permanent.

C'est le phénomène d'auto-induction.

2) a - Schéma fléché avec sens de i . Loi des mailles : $u_R(t) + ri(t) + L \frac{di(t)}{dt} - E = 0$

avec $u_R(t) = Ri(t)$ soit $i = \frac{u_R(t)}{R}$ et $\frac{di(t)}{dt} = \frac{1}{R} \frac{du_R(t)}{dt}$

Mise en équation et équation : $\frac{du_R(t)}{dt} + \frac{(R+r)}{L} u_R(t) = \frac{R}{L} E$.

b- En régime permanent, $\frac{du_R(t)}{dt} = 0$ d'où $\frac{(R+r)}{L} (U_R)_P = \frac{R}{L} E$ soit $r = R \left(\frac{E}{(U_R)_P} - 1 \right)$

3) a- D'après la figure 4 on a $E = 6 \text{ V}$ et $(U_R)_P = 5 \text{ V}$

b- $r = R \left(\frac{E}{(U_R)_P} - 1 \right)$ A.N : $r = 10 \Omega$

4) a - $u_R(t) = (U_R)_P \left(1 - e^{-\frac{t}{\tau}} \right)$, $\frac{du_R(t)}{dt} = \frac{1}{\tau} (U_R)_P e^{-\frac{t}{\tau}}$, équation différentielle d'où :

$$(U_R)_P e^{-\frac{t}{\tau}} \left(\frac{1}{\tau} \frac{R+r}{L} \right) + \frac{R+r}{L} (U_R)_P = \frac{R}{L} E \text{ soit } \left(\frac{1}{\tau} \frac{R+r}{L} \right) = 0 \text{ soit } \tau = \frac{L}{R+r};$$

τ représente la constante de temps du dipôle RL.

b- $0,63(U_R)_P = 3,15 \text{ V}$ lui correspond (figure 4) $t = \tau = 5 \text{ ms}$

$L = (R+r)\tau$ A.N : $L = 0,3 \text{ H}$

II-

1) On a $U_{(BC)} = 0,5 \text{ V} = 10 \times 50 \cdot 10^{-3} = r \cdot I$ or

$$U_{(BC)} = \sqrt{r^2 + \left(2\pi N_1 L - \frac{1}{2\pi N_1 C} \right)^2} \cdot I \text{ d'où } 2\pi N_1 L = \frac{1}{2\pi N_1 C} : \text{le circuit est alors résistif.}$$

2) Le circuit est résistif donc : $4\pi^2 N_1^2 LC = 1$ soit $C = \frac{1}{4\pi^2 N_1^2 L}$

A.N: $C = 5 \mu\text{F}$

Exercice 2

A-
1) a- d : longueur d'onde c'est la distance parcourue par l'onde progressive pendant une période temporelle T . D'après la **figure 7** on a $d = 2 \text{ cm}$.

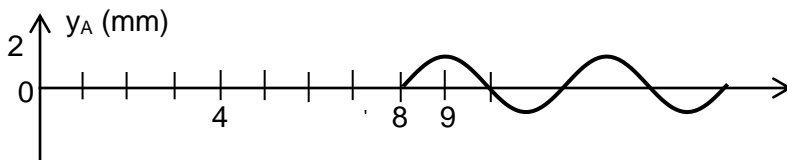
b- Pendant Δt l'onde s'est propagée de $2,5 \lambda$ (**figure 7**) ; donc $\Delta t = 2,5 T = 2,5/N$ soit

$$N = \frac{2,5}{\Delta t} \quad \text{A.N: } N = 25 \text{ Hz}$$

c- $v = \lambda \cdot N$ A.N : $v = 0,5 \text{ m.s}^{-1}$

2) a- $t_A = x_A/v$ A.N : $t_A = 0,08 \text{ s}$

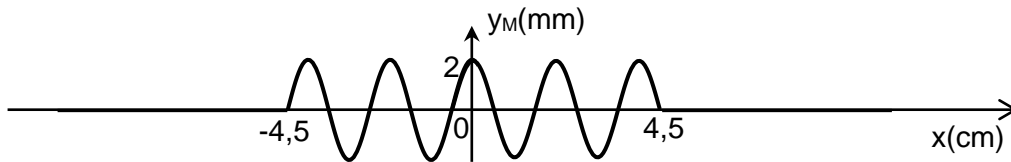
b-



(Dans ce diagramme, on satisfait « A prend pour la 1^{ère} fois son élongation maximale à $9 \cdot 10^{-2} \text{ s}$ »).

A reproduit identiquement le mouvement de O après un retard θ_A donc O débute son mouvement vers les élongations positives à partir de 0. $\varphi_O = 0 \text{ rad}$

c-



(à $t = 9 \cdot 10^{-2} \text{ s}$, le front d'onde se propage de $2,25 \lambda$; $t = 2,25 T$)

B-

1) En lumière ordinaire, on observe des rides circulaires concentriques équidistantes qui se propagent en s'éloignant de O.

2) Même milieu, même profondeur et même fréquence

3) (P_2) : l'énergie communiquée par la pointe au liquide subie un phénomène de dilution.

Exercice 3

1) Le circuit comporte deux bornes d'entrée et deux bornes de sortie : c'est un quadripôle.

2) a- Schéma de la figure 9 avec $i(t)$ et $u_R(t)$

$$\text{-Loi des mailles : } u_s(t) + RC \frac{du_s(t)}{dt} - u_e(t) = 0 \text{ soit } \frac{du_s(t)}{dt} + \frac{1}{RC} u_s(t) = \frac{u_e(t)}{RC}$$

b-

correspondance fonction - vecteur :

$$\frac{1}{RC} u_S(t) = \frac{U_{sm}}{RC} \sin(\omega t + \varphi_s) \rightarrow \overline{V}_S \left[\frac{U_{sm}}{RC}; \varphi_s \right]$$

$$\frac{du_S(t)}{dt} = 2\pi N U_{sm} \sin(\omega t + \varphi_s + \pi/2) \rightarrow \overline{V}_1 [2\pi N U_{sm}; \varphi_s + \pi/2]$$

$$\frac{u_e}{RC} = \frac{U_{em}}{RC} \sin(\omega t + \varphi_e) \rightarrow \overline{V}_2 \left[\frac{U_{em}}{RC}; \varphi_e \right]$$

construction de Fresnel : ...

mise en équation :

$$\left(\frac{U_{em}}{RC}\right)^2 = \left[\left(\frac{U_{sm}}{RC}\right)^2 + (2\pi N U_{sm})^2\right] \text{ soit } \frac{U_{sm}}{U_{em}} = \frac{1}{\sqrt{1 + (2\pi NRC)^2}} \dots d'ou \dots$$

c- D'après $\frac{U_s}{U_e} = \frac{1}{\sqrt{1 + (2\pi NRC)^2}}$,

Pour les faibles fréquences, N tend vers 0 d'où U_s tend vers U_e ;

Pour les hautes fréquences, N tend vers ∞ d'où U_s tend vers 0, donc c'est un filtre passe bas.

3) a - $Y = 20 \log \frac{U_s}{U_e} = 20 \log \frac{1}{\sqrt{1 + (2\pi NRC)^2}} = -20 \log \left(1 + (2\pi NRC)^2\right)^{1/2}$

soit encore $Y = -10 \log \left(1 + (2\pi NRC)^2\right)$

b- Y représente le Gain pour ce filtre

c - $Y = -10 \log \left(1 + (2\pi N_1 RC)^2\right) = -3$; $\log \left(1 + (2\pi N_1 RC)^2\right) = -\frac{3}{10}$ soit

$$(2\pi N_1 RC)^2 = 10^{-0.3} - 1 = 1 \text{ soit } N_1 = \frac{1}{2\pi RC}$$

4) a - $Y = -20 \log N_2 + 20 \log \frac{1}{2\pi RC} = 0$; $N_2 = \frac{1}{2\pi RC}$;

N_2 représente la fréquence de coupure haute, en effet, $N_2 = N_1$ pour laquelle $Y = -3$ dB

b - $N_2 = \frac{1}{2\pi RC} \Rightarrow C = \frac{1}{2\pi N_2 R}$ A.N : $C = 0,475 \cdot 10^{-6}$ F